

पिछले वर्षों के प्रश्न पत्र



टियर - I

IB ACIO Gr-II

18 फ़रवरी 2021 | पाली - 1



SSC CHSL



AFCAT



SSC CGL



IB MTS



RRB NTPC



SSC CPO



IB SA



+91-9205524028



Prepare 50% Faster



ixamBee.com

ACIO Grade II Executive 18th Feb 2021

Participant ID	
Participant Name	
Test Center Name	
Test Date	18/02/2021
Test Time :	9:00 AM - 10:00 AM
Subject	ACIO Grade II (Executive)

Section : General awareness Current Affairs

Q.1 27 जुलाई 2020 को, इलेक्ट्रॉनिक्स एवं सूचना प्रौद्योगिकी मंत्रालय (MeitY) ने फार्मास्यूटिकल उत्पादन के लिए पीएलआई (PLI) या प्रोडक्शन लिंकड इन्सैंटिव स्कीम की शुरुआत की। इस स्कीम के अंतर्गत निम्नलिखित में से कौन सा/से तर्क(points) नहीं आता/आते हैं/हैं?

- रु. 6,940 करोड़ तक के प्रोडक्शन लिंकड इन्सैंटिव स्वीकृत किए गए हैं।
- पात्र उत्पादों के चयनित आवेदक द्वारा 6 वर्षों के लिए किए गए, प्रतिबद्ध निवेश और बिक्री के लिए 53 एपीआई (APIs) को कवर करने वाले 41 पात्र उत्पादों के पात्र उत्पादकों को एक वित्तीय प्रोत्साहन दिया जाएगा।
- आवेदक की शुद्ध हैसियत (उसकी श्रुप कंपनियों सहित), आवेदन की तिथि तक, कुल प्रतिबद्ध निवेश के 30% से कम नहीं होनी चाहिए।
- यह योजना वित्तीय वर्ष 2020 - 2021 से 2024 - 2025 तक लागू रहेगी।

नीचे दिए गए कोड (code) का उपयोग करके सही उत्तर चुनिए।

- (A) केवल 1
(B) केवल 2
(C) 3 और 4
(D) केवल 4

Ans 1. C
 2. B
 3. A
 4. D

Question ID : 59445929017
Status : Answered
Chosen Option : 1

Q.2 "इंडिया 2020 ईयरबुक" नामक पुस्तक का विमोचन किसने किया है?

Ans 1. नरेंद्र मोदी
 2. अमित शाह
 3. शशि थरूर
 4. प्रकाश जावड़ेकर

Question ID : 59445929001
Status : Answered
Chosen Option : 4

Q.3 अगस्त 2020 में, अफ्रीका रीजनल सर्टिफिकेशन कमीशन ने डब्ल्यूएचओ (WHO) अफ्रीकी क्षेत्र को चार साल तक कोई मामला न दिखने के बाद _____ से मुक्त प्रमाणित किया।

Ans 1. चिकन पॉक्स
 2. रूबेला
 3. वाइल्ड पोलियो
 4. टेटनस

Question ID : 59445929010
Status : Answered
Chosen Option : 1



+91-9205524028

ixamBee™

Prepare 50% Faster



ixamBee.com

Q.4 2020 में, उत्तरी हिंद महासागर में 5 चक्रवात बने हैं। निम्नलिखित में से कौन सा गंभीर चक्रवाती तूफान अरब सागर के ऊपर बना था और सोमालिया तट की ओर बढ़ा था?

1. गति
2. अम्फान
3. निसर्ग

नीचे दिए गए कोड (code) का उपयोग करते हुए, सही उत्तर चुनिए।

- (A) केवल 1
- (B) केवल 2
- (C) 1 और 2 दोनों
- (D) 2 और 3 दोनों

Ans 1. A
 2. B
 3. C
 4. D

Question ID : 59445929020
 Status : Answered
 Chosen Option : 3

Q.5 भारतीय प्रशासनिक सेवा (आई.ए.एस.) अधिकारी, विनी महाजन, जून 2020 में किस राज्य की पहली महिला मुख्य सचिव बनीं थीं?

Ans 1. उत्तर प्रदेश
 2. राजस्थान
 3. हरियाणा
 4. पंजाब

Question ID : 59445929007
 Status : Answered
 Chosen Option : 2

Q.6 इनमें से किस कंपनी ने घोषणा की है कि वह मुंबई अंतर्राष्ट्रीय हवाई अड्डे का संचालन करने वाले जी.वी.के. एयरपोर्ट डेवलपर्स लिमिटेड की बहुलांश हिस्सेदारी अधिग्रहित करने के लिए सहमत है?

Ans 1. पेप्सिको इंडिया होल्डिंग्स प्राइवेट लिमिटेड
 2. रिलायंस इंडस्ट्रीज लिमिटेड
 3. अड्डाणी एयरपोर्ट होल्डिंग्स लिमिटेड
 4. जी.एम.आर. इन्फ्रास्ट्रक्चर लिमिटेड

Question ID : 59445929009
 Status : Answered
 Chosen Option : 3

Q.7 भारत ने जुलाई 2020 में यू.के. के साथ औषधीय अनुसंधान के क्षेत्र में 80 लाख (8 मिलियन) पाउंड की राशि का समझौता किया है। इसमें यू.के. और भारत के योगदान का अनुपात क्या है?

Ans 1. 1 : 2
 2. 2 : 1
 3. 1 : 3
 4. 1 : 1

Question ID : 59445929008
 Status : Answered
 Chosen Option : 3



+91-9205524028

ixamBee™

Prepare 50% Faster



ixamBee.com

Q.8 अभियान 'सक्षम (SAKSHAM)' के संबंध में दिए गए कथनों पर विचार कीजिए।

1. यह अभियान जीवाश्म ईंधन के उपभोक्ताओं के बीच जागरूकता का सृजन करने के लिए है
2. इस अभियान में जागरूकता का सृजन करने के लिए साइक्लोथॉन, किसानों की कार्यशालाएँ, परिसंवाद, चित्रकला की प्रतियोगिताएँ आदि जैसे आयोजन किए जाएँगे।

नीचे दिए गए कोड (code) का उपयोग करके सही उत्तर चुनिए।

- Ans
- 1. केवल 1
 - 2. केवल 2
 - 3. 1 और 2 दोनों
 - 4. न तो 1 और न ही 2

Question ID : 59445929015
Status : Answered
Chosen Option : 2

Q.9 केंद्रीय मंत्रिमंडल ने जम्मू और कश्मीर पंचायती राज अधिनियम, 1989 का अंगीकृत करने की मंजूरी दे दी है।

1. इस कदम से जम्मू और कश्मीर में जमीनी स्तर के लोकतंत्र के सभी चार स्तरों को स्थापित करने में सहायता मिलेगी।
2. इससे जम्मू और कश्मीर के लोगों को गाँव, खंड (block) और जिला स्तर पर अपने प्रतिनिधियों का चुनाव करने में सहायता मिलेगी।

नीचे दिए गए कोड (code) का उपयोग करके सही उत्तर चुनिए।

- Ans
- 1. केवल 2
 - 2. केवल 1
 - 3. 1 और 2 दोनों
 - 4. न तो 1 और न ही 2

Question ID : 59445929013
Status : Answered
Chosen Option : 3

Q.10 फीफा (FIFA) महिला विश्व कप 2023™ का आयोजन किस देश में किया जाएगा?

1. ब्राजील
2. संयुक्त राज्य अमेरिका और न्यूजीलैंड में संयुक्त रूप से

नीचे दिए गए कोड (code) का उपयोग करके सही उत्तर चुनिए।

- Ans
- 1. न तो 1 और न ही 2
 - 2. केवल 2
 - 3. केवल 1
 - 4. 1 और 2 दोनों

Question ID : 59445929019
Status : Answered
Chosen Option : 3

Q.11 अगस्त 2020 में मेघालय के राज्यपाल के रूप में किसे नियुक्त किया गया है?

- Ans
- 1. एस. नारायण आर्य
 - 2. सत्यपाल मलिक
 - 3. आर. एन. रवि
 - 4. आचार्य देवव्रत

Question ID : 59445929002
Status : Answered
Chosen Option : 1



Q.12 आईसी-इम्पैक्ट्स (IC-IMPACTS) रिसर्च सेंटर ऑफ एक्सीलेंस किन देशों से संबंधित है?

- Ans
- 1. भारत और रूस
 - 2. भारत और जापान
 - 3. भारत और फ्रांस
 - 4. भारत और कनाडा

Question ID : 59445929004
Status : Answered
Chosen Option : 1

Q.13 अगस्त 2020 में, किस देश की नौसेना के लिए चीन ने चार उन्नत युद्धपोतों में से पहले युद्धपोत को लॉन्च किया है?

- Ans
- 1. भारत
 - 2. श्रीलंका
 - 3. केन्या
 - 4. पाकिस्तान

Question ID : 59445929003
Status : Answered
Chosen Option : 3

Q.14 इनमें से किस राज्य ने K-FON नामक परियोजना के तहत अपनी खुद की इंटरनेट सेवा शुरू करने की घोषणा की है?

- Ans
- 1. गुजरात
 - 2. गोवा
 - 3. केरल
 - 4. कर्नाटक

Question ID : 59445929006
Status : Answered
Chosen Option : 1

Q.15 रक्षिता (Rakshita) क्या है?

1. यह केंद्रीय रिजर्व पुलिस बल (CRPF) और रक्षा अनुसंधान एवं विकास संगठन (DRDO) द्वारा चालू की गई एक एम्बुलेंस सेवा है।
2. यह एक एम्बुलेंस है जिसका उपयोग किसी चिकित्सा की आपात स्थिति के दौरान या युद्ध के दौरान चोट लग जाने की स्थिति में सुरक्षा बलों के आपातकालीन बचाव और निकासी के लिए किया जाता है।
3. इसका विकास सीमा सुरक्षा बल (BSF) द्वारा किसी चिकित्सा आपात स्थिति के दौरान या युद्ध के दौरान चोट लग जाने की स्थिति में आपातकालीन बचाव और निकासी के लिए किया जाता है।

नीचे दिए गए कोड (code) का उपयोग करके सही उत्तर चुनिए।

- Ans
- 1. केवल 2
 - 2. केवल 1 और 2
 - 3. केवल 2 और 3
 - 4. केवल 1

Question ID : 59445929014
Status : Answered
Chosen Option : 3



Q.16 "रचनात्मक अर्थव्यवस्था के लिए यूनेस्को (UNESCO)-बांग्लादेश बंगबंधु शेख मुजीबुर रहमान अंतर्राष्ट्रीय पुरस्कार" के संबंध में निम्नलिखित में से कौन सा कथन सत्य है।

1. यूनेस्को (UNESCO) के कार्यकारी बोर्ड ने यूनेस्को (UNESCO) के 210वें सत्र में इसे मंजूरी प्रदान की थी।
2. पुरस्कार प्राप्त करने वालों को 1,00,000 अमेरिकी डॉलर की इनामी राशि प्रदान की जाएगी।

नीचे दिए गए कोड (code) का उपयोग करके सही उत्तर चुनिए।

- Ans
- 1. केवल 2
 - 2. केवल 1
 - 3. 1 और 2 दोनों
 - 4. न तो 1 और न ही 2

Question ID : 59445929011
Status : Answered
Chosen Option : 2

Q.17 एलन मस्क के स्पेस-एक्स (SpaceX) ने एक ही रॉकेट में बहुत से उपग्रहों को प्रक्षेपित करने एक नया विश्व रिकॉर्ड कायम किया है। इस संबंध में निम्नलिखित दिए गए कथनों पर विचार कीजिए।

1. इसने एक ही रॉकेट पर 143 उपग्रहों को प्रक्षेपित करके एक नया विश्व रिकॉर्ड बनाया है।
2. इसमें वाणिज्यिक और सरकारी क्यूबसैट, माइक्रोसैट और 10 स्टारलिनक उपग्रह शामिल हैं।

उपरोक्त में से कौन सा / से कथन सही है / हैं?

- Ans
- 1. 1 और 2 दोनों
 - 2. केवल 2
 - 3. न तो 1 और न ही 2
 - 4. केवल 1

Question ID : 59445929018
Status : Answered
Chosen Option : 1

Q.18 निखिल श्रीवास्तव के संबंध में दिए गए कथनों पर विचार कीजिए।

1. वे 2021 के प्रतिष्ठित माइकल और शीला हेल्ड पुरस्कार के विजेता हैं।
2. उन्होंने यह पुरस्कार बीजगणितीय विविधताओं की संरचना का वर्गीकरण और वर्णन करने के लिए जीता है।

नीचे दिए गए कोड (code) का उपयोग करके सही उत्तर चुनिए।

- Ans
- 1. केवल 2
 - 2. न तो 1 और न ही 2
 - 3. 1 और 2 दोनों
 - 4. केवल 1

Question ID : 59445929012
Status : Answered
Chosen Option : 3



Q.19 सूची I (लेखक) का सूची II (पुस्तक) के साथ मिलान कीजिए और सूची के नीचे दिए गए कोड (code) का उपयोग करके सही उत्तर चुनिए।

सूची - 1 (लेखक)		सूची - 2 (पुस्तक)	
A	चिन्मय गुहा	1	घूमर दारजा थेले
B	धर्मन	2	सूल
C	श्याम बेसरा	3	मारोम
D	शशि धरूर	4	एन इरा ऑफ़ डार्कनेस : द ब्रिटिश एम्पायर इन इंडिया

संहिता (code)

- A) A B C D
1 2 3 4
- B) A B C D
2 3 1 4
- C) A B C D
3 2 1 4
- D) A B C D
1 3 2 4

- Ans 1. D
 2. B
 3. A
 4. C

Question ID : 59445929016
Status : Answered
Chosen Option : 3

Q.20 किस देश ने 1971 के मुक्ति संग्राम में पाकिस्तान द्वारा मारे गए भारतीय सैनिकों के लिए स्मारक बनाने का फैसला किया है?

- Ans 1. अफगानिस्तान
 2. श्रीलंका
 3. बांग्लादेश
 4. नेपाल

Question ID : 59445929005
Status : Answered
Chosen Option : 4

Section : General studies

Q.1 राजिंदर गoyal किस खेल से संबंधित हैं?

- Ans 1. क्रिकेट
 2. जिम्नास्टिक्स
 3. टेबल टेनिस
 4. तैराकी

Question ID : 59445929023
Status : Answered
Chosen Option : 3



Q.2 काराकोरम नामक पर्वत श्रृंखला निम्नलिखित कारण से भूराजनीतिक रूप से अत्यंत महत्वपूर्ण है, क्योंकि:

1. यह भारत और चीन को जोड़ती है।
2. यह सिंधु और यारकंद नदी घाटियों के लिए जलोत्साराण क्षेत्र (watershed) के रूप में कार्य करती है।
3. भारत, चीन, पाकिस्तान के साथ-साथ अफगानिस्तान और ताजिकिस्तान की सीमाएँ काराकोरम प्रणाली में मिलती हैं।

नीचे दिए गए कोड (code) का उपयोग करते हुए सही उत्तर चुनिए।

- Ans**
- 1. केवल 2
 - 2. केवल 2 और 3
 - 3. केवल 3
 - 4. केवल 1 और 2

Question ID : 59445929035

Status : Answered

Chosen Option : 1

Q.3 सूची - I का सूची - II से मिलान कीजिए और सूचियों के नीचे दिए गए कोड (code) का उपयोग करते हुए सही उत्तर चुनिए।

सूची -I (ताम्रपाषाणयुगीन स्थल)	सूची -II (ताम्रपाषाणयुगीन सभ्यता स्थलों की नदियाँ)
A. अहर	1. ताप्ती
B. कायथा	2. नर्मदा
C. स्वालदा	3. कालीसिंध
D. मालवा	4. बनास

- Ans**
- 1. A-1, B-3, C-2, D-4
 - 2. A-2, B-1, C-4, D-3
 - 3. A-4, B-3, C-1, D-2
 - 4. A-2, B-4, C-1, D-3

Question ID : 59445929036

Status : Answered

Chosen Option : 3

Q.4 बजट 2020 में करारोपण के संदर्भ में निम्नलिखित कथनों पर विचार कीजिए।

1. लाभंश वितरण कर (DDT) समाप्त कर दिया गया।
2. सहकारी समितियों पर कर वर्तमान में 30% की तुलना में घटाकर 22% तथा अधिभार एवं उपकर तक सीमित कर दिया गया।

उपर्युक्त कथनों में से कौन सा/से सही है/हैं?

- Ans**
- 1. 1 और 2 दोनों
 - 2. केवल 1
 - 3. केवल 2
 - 4. न तो 1 और न ही 2

Question ID : 59445929032

Status : Answered

Chosen Option : 1



Q.5 हर्षा छीना मोगा मोर्चा के संदर्भ में निम्नलिखित कथनों पर विचार कीजिए।

1. यह एक किसान विद्रोह था जो जून 1946 में नहरों के निकासों का पुनर्निर्माण करते हुए कम्युनिस्ट पार्टी के नेतृत्व में प्रारंभ किया गया था।
2. इस अभियान को, किसानों को सिंचाई के पानी की आपूर्ति रोकने के ब्रिटिश सरकार के फैसले के विरुद्ध प्रारंभ किया गया था।

उपर्युक्त कथनों में से कौन सा/से सही है/हैं?

- Ans
- 1. केवल 1
 - 2. केवल 2
 - 3. न तो 1 और न ही 2
 - 4. 1 और 2 दोनों

Question ID : 59445929031
Status : Answered
Chosen Option : 4

Q.6 पुस्तक 'एन एक्स्ट्राऑर्डिनरी लाइफ' किसकी जीवनी पर आधारित है?

- Ans
- 1. मनोहर पर्रींकर
 - 2. अटल बिहारी वाजपेयी
 - 3. अरुण जेटली
 - 4. सुषमा स्वराज

Question ID : 59445929022
Status : Answered
Chosen Option : 1

Q.7 निम्नलिखित में से किस निकाय ने रेसिडेक्स (RESIDEX) नामक प्रथम आधिकारिक आवासीय आवास मूल्य सूचकांक शुरू किया था?

- Ans
- 1. सेबी (SEBI)
 - 2. एनएचबी (NHB)
 - 3. आरबीआई (RBI)
 - 4. नीति (NITI) आयोग

Question ID : 59445929027
Status : Answered
Chosen Option : 1

Q.8 निम्नलिखित भारतीय व्यक्तित्वों में से किसे 'युवा तुर्क' के नाम से भी जाना जाता है?

- Ans
- 1. लाला लाजपत राय
 - 2. बाल गंगाधर तिलक
 - 3. भगत सिंह
 - 4. चंद्र शेखर

Question ID : 59445929030
Status : Answered
Chosen Option : 4

Q.9 _____, पौधों के नरम हिस्से में उपस्थित अपेक्षाकृत पतली कोशिका भित्ति, अंतरकोशीय स्थान के साथ अनिर्दिष्ट जीवित कोशिकाओं से बना होता है।

- Ans
- 1. जटिल स्थायी ऊतक
 - 2. कोलेन्काइमा
 - 3. पेरेंकाइमा
 - 4. स्कलेरेनकाइमा

Question ID : 59445929025
Status : Answered
Chosen Option : 1



Q.10 भारत के संविधान में निम्नलिखित में से किसे/किन्हें मौलिक कर्तव्य माना गया है?

1. भारतीय नागरिकों को वैज्ञानिक सोच, मानवतावाद और जिज्ञासा और सुधार की प्रेरणा विकसित करनी चाहिए।
2. माता-पिता या अभिभावक को छह से चौदह वर्ष की आयु के बीच के अपने बच्चों या पाल्यों को शिक्षा के अवसर प्रदान करने चाहिए।
3. भारतीय नागरिकों को देश की सम्मिश्रित संस्कृति की समृद्ध विरासत का महत्व समझना चाहिए और इसका संरक्षण करना चाहिए।

- Ans
- 1. केवल 2 और 3
 - 2. 1, 2 और 3
 - 3. केवल 1 और 2
 - 4. केवल 1 और 3

Question ID : 59445929040
Status : Answered
Chosen Option : 2

Q.11 दक्कन का पठार कितने भारतीय राज्यों तक फैला है?

- Ans
- 1. 8
 - 2. 6
 - 3. 3
 - 4. 5

Question ID : 59445929026
Status : Answered
Chosen Option : 1

Q.12 निम्नलिखित में से कौन याँगिक मिट्टी में अंतर्राधी कारक (buffering agents) के रूप में कार्य करता/करते हैं/हैं?

1. कार्बोनेट
2. फॉस्फेट
3. आर्सेनेट

- Ans
- 1. केवल 3
 - 2. केवल 1
 - 3. केवल 2
 - 4. केवल 1 और 2

Question ID : 59445929039
Status : Answered
Chosen Option : 1



Q.13 भारत के गोगोना संगीत वाद्ययंत्र के संदर्भ में निम्नलिखित कथनों पर विचार कीजिए।

1. यह सर्वाधिक सरल और सबसे छोटा भारतीय ग्रामीण संगीत वाद्ययंत्र है।
2. इसकी उत्पत्ति मणिपुर में हुई थी।
3. यह बाँस के एक टुकड़े से निर्मित, मुँह से बजाया जाने वाला वाद्ययंत्र है जो एक सिरे पर फटा होता है।
4. यह मेइती समुदाय की संगीत परंपरा का एक भाग है।

उपर्युक्त कथनों में से कौन से सही हैं?

- Ans
- 1. केवल 1, 2 और 3
 - 2. केवल 1 और 2
 - 3. केवल 2, 3 और 4
 - 4. केवल 1 और 3

Question ID : 59445929037
Status : Answered
Chosen Option : 3

Q.14 सांख्यिकी और कार्यक्रम क्रियान्वयन मंत्रालय द्वारा जारी 'हेल्थ इन इंडिया-2020' रिपोर्ट के संबंध में निम्नलिखित कथनों पर विचार कीजिए।

1. इस रिपोर्ट ने देश में धार्मिक समुदायों की स्वास्थ्य स्थितियों पर प्रकाश डाला।
2. सभी धर्मों में, पारसी लोग बीमारियों के लिए सर्वाधिक असुरक्षित पाए गए।
3. पुरुषों की तुलना में महिलाएँ, रोगग्रस्त होने के लिए अधिक असुरक्षित पाई गईं।
4. रिपोर्ट में कहा गया है कि स्वास्थ्य और धर्म के बीच संबंध महत्वपूर्ण नहीं है।

उपर्युक्त कथनों में से कौन से सही हैं?

- Ans
- 1. केवल 1, 2 और 3
 - 2. केवल 1, 3 और 4
 - 3. केवल 1 और 2
 - 4. केवल 1 और 3

Question ID : 59445929038
Status : Answered
Chosen Option : 1

Q.15 स्पाइरोगाइरा निम्नलिखित शैवाल में से किसका एक उदाहरण है?

- Ans
- 1. भूरा शैवाल
 - 2. लाल शैवाल
 - 3. हरा शैवाल
 - 4. सफेद शैवाल

Question ID : 59445929029
Status : Answered
Chosen Option : 2

Q.16 मुस्लिम लीग और भारतीय राष्ट्रीय कांग्रेस द्वारा लखनऊ संधि पर हस्ताक्षर कब किए गए थे?

- Ans
- 1. 1919
 - 2. 1925
 - 3. 1916
 - 4. 1905

Question ID : 59445929024
Status : Answered
Chosen Option : 1



Q.17 स्मारक – राज्य का निम्नलिखित में से कौन सा युग्म सही है?

- I. शेखचिल्ली का मकबरा – हरियाणा
II. चित्रदुर्ग किला - कर्नाटक

Ans 1. I तथा II दोनों
 2. केवल I
 3. केवल II
 4. ना ही I ना ही II

Question ID : 59445929021
Status : Answered
Chosen Option : 2

Q.18 बाराबती किला किस भारतीय राज्य में स्थित है?

Ans 1. केरल
 2. महाराष्ट्र
 3. पश्चिम बंगाल
 4. ओडिशा

Question ID : 59445929028
Status : Answered
Chosen Option : 3

Q.19 सूची - I का सूची - II से मिलान कीजिए और सूचियों के नीचे दिए गए कोड (code) का उपयोग करते हुए सही उत्तर चुनिए।

सूची - I (2020 में राजीव गांधी खेल रत्न पुरस्कार के प्राप्तकर्ता)	सूची - II (खेल, जिनसे वे संबंधित हैं)
A. रोहित शर्मा	1. पैरा एथलेटिक्स
B. विनेश	2. क्रिकेट
C. मरियप्पन	3. टेबल टेनिस
D. मनिका बत्रा	4. कुश्ती

Ans 1. A-2, B-1, C-3, D-4
 2. A-2, B-3, C-1, D-4
 3. A-2, B-1, C-4, D-3
 4. A-2, B-4, C-1, D-3

Question ID : 59445929034
Status : Answered
Chosen Option : 1

Q.20 निम्नलिखित में से कौन सा कथन 'अनिषेकजनन' की प्रक्रिया से संबंधित है?

- यह अलैंगिक जनन का एक प्राकृतिक रूप है जिसमें निषेचन के बिना भ्रूण की वृद्धि और विकास होता है।
- यह प्रजनन का वह प्रकार है जिसमें किसी नर जीव का शुक्राणु किसी मादा जीव के अंडे को मादा के शरीर से बाहर निषेचित करता है।
- यह प्रजनन का वह प्रकार है जिसमें किसी नर जीव का शुक्राणु किसी मादा जीव के अंडे को मादा के शरीर के अंदर निषेचित करता है।

नीचे दिए गए कोड (codes) का उपयोग करते हुए सही उत्तर चुनिए।

Ans 1. केवल 1 और 2
 2. केवल 2
 3. केवल 3
 4. केवल 1

Question ID : 59445929033
Status : Answered
Chosen Option : 1

Section : Numerical aptitude



+91-9205524028

ixamBee™

Prepare 50% Faster



ixamBee.com

Q.1 दो संख्याओं का लघुतम समापवर्त्य और महत्तम समापवर्तक क्रमशः 3 और 18 हैं। यदि उनमें से एक 9 है, तो दूसरी संख्या ज्ञात करें।

- Ans
- 1. 8
 - 2. 9
 - 3. 3
 - 4. 6

Question ID : 59445929042

Status : Answered

Chosen Option : 2

Q.2 एक समलम्ब चतुर्भुज के समानांतर भुजाओं की लंबाई का अनुपात 3 : 2 है। इनके बीच की न्यूनतम दूरी 15 सेमी है। यदि समलम्ब चतुर्भुज का क्षेत्रफल 1350 वर्ग सेमी है, तो समानांतर भुजाओं की लंबाई का अंतर ज्ञात कीजिए।

- Ans
- 1. 21 सेमी
 - 2. 95 सेमी
 - 3. 36 सेमी
 - 4. 65 सेमी

Question ID : 59445929059

Status : Not Answered

Chosen Option : --

Q.3 निम्न का मान ज्ञात करें।

$$\left[\left(1 - \frac{1}{2}\right) \left(1 - \frac{1}{3}\right) \left(1 - \frac{1}{4}\right) \dots \left(1 - \frac{1}{100}\right) \right]^{-0.5}$$

- Ans
- 1. $\frac{1}{100}$
 - 2. 100
 - 3. $\frac{1}{10}$
 - 4. 10

Question ID : 59445929041

Status : Answered

Chosen Option : 3

Q.4 अरुण और बिजय 3 दिनों में चित्र बना सकते हैं, बिजय और चंदन उन चित्रों को 5 दिनों में बना सकते हैं। यदि अरुण, बिजय और चंदन साथ मिलकर 2 दिन में काम पूरा कर सकते हैं, तो अरुण और चंदन साथ मिलकर यह काम _____ दिनों में करेंगे।

- Ans
- 1. 8/7 दिन
 - 2. 4/3 दिन
 - 3. 5 दिन
 - 4. 15/7 दिन

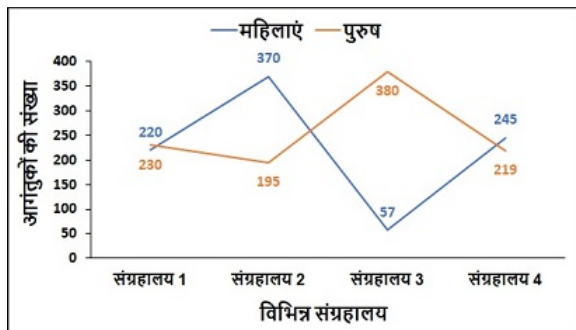
Question ID : 59445929056

Status : Answered

Chosen Option : 2



Q.5 चाफ चार विभिन्न संग्रहालयों, जिनके नाम 1, 2, 3 और 4 हैं, में आंगतुकों (महिलाएं और पुरुष) की संख्या को दर्शाता है। किस संग्रहालय में आंगतुकों की अधिकतम संख्या थी?



Ans 1. 2

2. 4

3. 3

4. 1

Question ID : 59445929055
Status : Answered
Chosen Option : 2

Q.6 एक नाव धारा प्रवाह के दिशा में 30 मिनट में 20 km जाती है। प्रवाह की गति 10 km/h है। नाव की गति ज्ञात करें।

Ans 1. 30 km/h

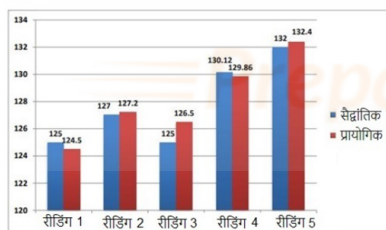
2. 45 km/h

3. 60 km/h

4. 20 km/h

Question ID : 59445929052
Status : Answered
Chosen Option : 3

Q.7 दिया गया बार ग्राफ वैज्ञानिक प्रयोग करते हुए 5 चक्र की रीडिंग में प्राप्त सैद्धांतिक और प्रायोगिक रीडिंग को निरूपित करता है।



सैद्धांतिक रूप से गणना के दौरान, रीडिंग 2 और 5 में प्राप्त अंतर तथा प्रायोगिक रूप से गणना के दौरान रीडिंग 1 और 3 में प्राप्त अंतर का अनुपात ज्ञात करें।

Ans 1. 5 : 2

2. 1 : 1

3. 3 : 2

4. 2 : 1

Question ID : 59445929046
Status : Answered
Chosen Option : 1



Q.8 तालिका विभिन्न महीनों में एक फर्म के व्यय और आय को दर्शाती है। किस महीने में बचत का आय से अनुपात अधिकतम था।

महीना	वेतन	व्यय
जनवरी	40,000	28,000
फ़रवरी	35,000	30000
मार्च	37000	30000
अप्रैल	42000	32000
मई	45000	31000

- Ans
- 1. फरवरी
 - 2. अप्रैल
 - 3. जनवरी
 - 4. मई

Question ID : 59445929049
Status : Answered
Chosen Option : 4

Q.9 दो संख्याओं का अनुपात 3 : 5 है और उनका लघुत्तम समापवर्त्य, उनके महत्तम समापवर्तक से 42 अधिक है। उनमें से बड़ी संख्या का मान क्या है?

- Ans
- 1. 12
 - 2. 15
 - 3. 9
 - 4. 18

Question ID : 59445929058
Status : Answered
Chosen Option : 2

Q.10 उस घन का संपूर्ण पृष्ठीय क्षेत्रफल ज्ञात करें जिसका आयतन 64 m^3 है।

- Ans
- 1. 96 m^2
 - 2. 25 m^2
 - 3. 36 m^2
 - 4. 64 m^2

Question ID : 59445929057
Status : Answered
Chosen Option : 4

Q.11 संख्या 87659_21 में रिक्त स्थान में छोटी से छोटी कौन सी संख्या रखी जाए कि संख्या 11 से विभाज्य हो जाए?

- Ans
- 1. 2
 - 2. 3
 - 3. 7
 - 4. 1

Question ID : 59445929053
Status : Answered
Chosen Option : 2



Q.12 5 छात्रों के अंक 25, 35, 45, 50, 15 हैं। औसत अंकों की गणना करें।

- Ans
- 1. 32
 - 2. 34
 - 3. 30
 - 4. 35

Question ID : 59445929054
Status : Answered
Chosen Option : 3

Q.13 5 क्रमागत संख्याओं का औसत 21 है। सबसे बड़ी संख्या कौन सी होगी?

- Ans
- 1. 23
 - 2. 21
 - 3. 19
 - 4. 22

Question ID : 59445929060
Status : Answered
Chosen Option : 3

Q.14 यदि रुपए 1000 की धनराशि साधारण ब्याज दर पर 2 वर्ष के बाद रुपए 1200 हो जाती है, तो ब्याज दर ज्ञात कीजिए।

- Ans
- 1. 20 प्रतिशत
 - 2. 5 प्रतिशत
 - 3. 10 प्रतिशत
 - 4. 15 प्रतिशत

Question ID : 59445929045
Status : Answered
Chosen Option : 4

Q.15 किसी सवारी रेलगाड़ी में 18 बोगियां हैं, प्रत्येक बोगी की लंबाई 15 m है। रेलगाड़ी, किसी इलेक्ट्रिक पोस्ट को 15 सेकंड में पार करती है। कुछ समस्या के कारण, तीन बोगियां को अलग कर दिया जाता है। अब, रेलगाड़ी इलेक्ट्रिक पोस्ट को कितने सेकंड में पार करेगी?

- Ans
- 1. 14
 - 2. 12.5
 - 3. 11
 - 4. 10.5

Question ID : 59445929051
Status : Answered
Chosen Option : 2

Q.16 21 cm व्यास वाले एक गोले का आयतन ज्ञात करें। (π का मान 22/7 है)

- Ans
- 1. 4132 cu cm
 - 2. 4851 cu cm
 - 3. 4441 cu cm
 - 4. 3361 cu cm

Question ID : 59445929048
Status : Answered
Chosen Option : 2



Q.17 a और b , दो संख्याओं का अनुपात क्रमशः $7 : 15$ है। उनका लघुत्तम समापवर्त्य (Least common multiple) 840 है।
($b + a$) : ($b - a$) का मान ज्ञात करें।

- Ans
- 1. 15 : 11
 - 2. 15 : 4
 - 3. 11 : 4
 - 4. 7 : 11

Question ID : 59445929043
Status : Answered
Chosen Option : 2

Q.18 जब 100 में से किसी संख्या का 25 प्रतिशत घटाया जाता है, तो उसका शेषफल वही संख्या होती है। संख्या ज्ञात करें?

- Ans
- 1. 100
 - 2. 32
 - 3. 80
 - 4. 75

Question ID : 59445929050
Status : Answered
Chosen Option : 4

Q.19 संजय और अमित एक कार्य 8 दिनों में कर सकते हैं। अमित अकेले इसे 12 दिनों में कर सकता है। संजय अकेले इसे कितने दिनों में करेगा?

- Ans
- 1. 24 दिन
 - 2. 16 दिन
 - 3. 20 दिन
 - 4. 12 दिन

Question ID : 59445929047
Status : Answered
Chosen Option : 4

Q.20 15 प्रतिशत और 5 प्रतिशत के दो क्रमिक छूट के समकक्ष एकल छूट ज्ञात करें।

- Ans
- 1. 20.20
 - 2. 18.75
 - 3. 10.5
 - 4. 19.25

Question ID : 59445929044
Status : Answered
Chosen Option : 4

Section : Reasoning Logical aptitude

Q.1 एक अनुक्रम दिया है, जिसमें एक पद लुप्त है। दिए गए विकल्पों में से वह सही विकल्प चुनिए जो अनुक्रम को पूरा करे।

DF, GJ, KM, NQ, RT, ?

- Ans
- 1. UV
 - 2. UX
 - 3. XY
 - 4. EI

Question ID : 59445929067
Status : Answered
Chosen Option : 2



Q.2 नीचे दिए गए प्रश्न में, कुछ कथन दिए गए हैं, जिसके बाद कुछ निष्कर्ष दिए गए हैं। आपको उन कथनों को सत्य मानना है, भले ही वे सामान्यतः ज्ञात तथ्यों से भिन्न प्रतीत हों। आपको यह निर्णय लेना है कि दिए गए निष्कर्षों में से कौन से दिए गए कथनों का अनुसरण करते हैं।

कथन:

- I. कोई भी R, V नहीं है।
- II. कोई भी L, M नहीं है।
- III. कोई भी R, L नहीं है।

निष्कर्ष:

- I. कुछ V, M नहीं हैं।
- II. कोई भी M, L नहीं हैं।
- III. कुछ L, R नहीं हैं।

- Ans
- 1. निष्कर्ष II तथा III दोनों अनुसरण करते हैं
 - 2. सभी निष्कर्ष अनुसरण करते हैं
 - 3. निष्कर्ष I तथा II दोनों अनुसरण करते हैं
 - 4. निष्कर्ष I तथा III दोनों अनुसरण करते हैं

Question ID : 59445929071
Status : Answered
Chosen Option : 2

Q.3 निम्नलिखित संख्या श्रृंखला में लुप्त पद ज्ञात करें।

45, 65, 165, 345, ____

- Ans
- 1. 625
 - 2. 605
 - 3. 585
 - 4. 565

Question ID : 59445929064
Status : Answered
Chosen Option : 1

Q.4 निम्नलिखित श्रृंखला में लुप्त पद ज्ञात करें।

AD25, CE64, EF121, GG196, ____

- Ans
- 1. IJ441
 - 2. IH289
 - 3. II324
 - 4. IH256

Question ID : 59445929078
Status : Answered
Chosen Option : 3

Q.5 एक निश्चित कूट भाषा में, BABE को ZYV के रूप में कूटबद्ध किया गया है तो ACID के लिए कूट क्या है?

- Ans
- 1. ZXRW
 - 2. YVOS
 - 3. ZXNR
 - 4. ZXWR

Question ID : 59445929068
Status : Answered
Chosen Option : 1



Q.6 'A + B' का अर्थ है कि 'B का बेटा A है', 'A - B' का अर्थ है कि 'B की बेटा A है', 'A × B' का अर्थ है कि 'B की माँ A है', 'A ÷ B' का अर्थ है कि 'B का भाई A है'। इनमें से कौन सा समीकरण यह दर्शाता है कि 'D का बेटा G है'?

- Ans
- 1. $G \times F + E \div D - C$
 - 2. $F + G \times E \div D - C$
 - 3. $F + G \div E \times D - C$
 - 4. $G + F \times E - D \div C$

Question ID : 59445929079
Status : Answered
Chosen Option : 2

Q.7 छह सदस्यों का एक परिवार है। उसमें दो विवाहित जोड़े हैं। X, F की बेटा है जिसके दो बच्चे हैं। F, Y की माँ है। Y, A का पति है। Z, X का भतीजा है। B, X का पति है। B का कोई भाई-बहन नहीं है। B का F से क्या संबंध है?

- Ans
- 1. सास
 - 2. दामाद
 - 3. साली
 - 4. बहू

Question ID : 59445929075
Status : Answered
Chosen Option : 3

Q.8 नीचे दिए गए प्रश्न में, दो कथन दिए गए हैं, जिसके बाद दो निष्कर्ष I और II दिए गए हैं। आपको उन कथनों को सत्य मानना है, भले ही वे सामान्यतः ज्ञात तथ्यों से भिन्न प्रतीत हों। आपको यह निर्णय लेना है कि दिए गए निष्कर्षों में से कौन से, यदि कोई हो तो, दिए गए कथनों का अनुसरण करते हैं।

कथन 1: सभी गुलाब पिंक हैं।
कथन 2: कुछ पिंक कमल हैं।

निष्कर्ष I: सभी कमल गुलाब हैं।
निष्कर्ष II: कुछ पिंक गुलाब हैं।

- Ans
- 1. निष्कर्ष I और II दोनों अनुसरण करते हैं
 - 2. केवल निष्कर्ष I अनुसरण करता है
 - 3. न तो निष्कर्ष I और न ही II अनुसरण करता है
 - 4. केवल निष्कर्ष II अनुसरण करता है

Question ID : 59445929073
Status : Answered
Chosen Option : 2

Q.9 उस विकल्प का चयन करें जो तीसरी संख्या से उसी प्रकार से संबंधित है जिस प्रकार से दूसरी संख्या पहली संख्या से संबंधित है।

7 : 393 :: 9 : ?

- Ans
- 1. 812
 - 2. 729
 - 3. 811
 - 4. 810

Question ID : 59445929076
Status : Answered
Chosen Option : 4



Q.10 उस विकल्प का चयन करें जो तीसरे शब्द से उसी प्रकार से संबंधित है जिस प्रकार से दूसरा शब्द पहले शब्द से संबंधित है।

योद्धा : तलवार :: लेखक : ?

- Ans
- 1. पृष्ठ
 - 2. कलम
 - 3. स्याही
 - 4. किताब

Question ID : 59445929065
Status : Answered
Chosen Option : 2

Q.11 6 लड़के 6 अलग-अलग कुर्सियों पर बैठे हैं जो 1 से 6 तक क्रमांकित हैं। A न तो कुर्सी 2 पर बैठा है और न ही कुर्सी 5 पर बैठा है। F या तो कुर्सी 4 पर या कुर्सी 6 पर बैठा है। E कुर्सी 1 पर बैठा है और D कुर्सी 3 पर बैठा है। यदि B या तो कुर्सी 2 पर या कुर्सी 4 पर बैठा है तो C किस कुर्सी पर बैठा है?

- Ans
- 1. 5
 - 2. 6
 - 3. 2
 - 4. 4

Question ID : 59445929074
Status : Answered
Chosen Option : 1

Q.12 500 ग्रामीणों में, 40% व्यवसाय करते हैं और 80% नौकरी करते हैं। यदि ये सभी या तो व्यवसाय कर रहे हैं या तो नौकरी कर रहे हैं, तो केवल नौकरी करने वाले ग्रामीणों की संख्या, केवल व्यवसाय कर रहे लोगों से कितनी अधिक है?

- Ans
- 1. 100
 - 2. 400
 - 3. 200
 - 4. 300

Question ID : 59445929063
Status : Answered
Chosen Option : 3

Q.13 नीचे दिए गए प्रश्न में, तीन कथन दिए गए हैं, जिसके बाद दो निष्कर्ष I और II दिए गए हैं। आपको उस/उन कथन/कथनों को सत्य मानना है, भले ही वे सामान्यतः ज्ञात तथ्यों से भिन्न प्रतीत हों। आपको यह निर्णय लेना है कि दिए गए निष्कर्षों में से कौन से, यदि कोई हो तो, दिए गए कथनों का अनुसरण करते हैं।

कथनों:

कुछ मोबाइल लैपटॉप हैं।
सभी लैपटॉप कैमरे हैं।
कोई कैमरा डेस्कटॉप नहीं है।

निष्कर्ष:

I. सभी डेस्कटॉप के मोबाइल होने की संभवना है।
II. सभी मोबाइल के कैमरा होने की संभवना है।

- Ans
- 1. केवल I अनुसरण करता है
 - 2. I और II दोनों अनुसरण करते हैं
 - 3. केवल II अनुसरण करता है
 - 4. न तो I और न ही II अनुसरण करता है

Question ID : 59445929061
Status : Answered
Chosen Option : 4



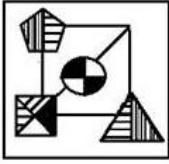
Q.14 यदि दर्पण को दाईं ओर रखा जाता है, तो बताएँ कि इनमें से कौन सी उत्तर आकृति दी गई प्रश्न आकृति का सटीक दर्पण प्रतिबिंब (मिरर इमेज) होगी?

प्रश्न आकृति:

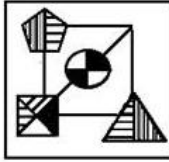


Ans

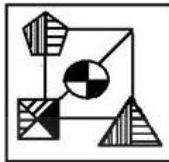
✓ 1.



✗ 2.



✗ 3.



✗ 4.



Question ID : 59445929080
Status : Answered
Chosen Option : 2

Q.15 तस्वीर में एक बच्चे की ओर इशारा करते हुए, एक सज्जन ने कहा "उसके पिता के पिता मेरे भाई हैं।" इस सज्जन का बच्चे से क्या संबंध है?

Ans

✗ 1. दादा

✗ 2. निर्धारित नहीं किया जा सकता है

✓ 3. दादा के भाई

✗ 4. चाचा

Question ID : 59445929062
Status : Answered
Chosen Option : 4



Q.16 नीचे दिए गए मैट्रिक्स में लुप्त संख्या ज्ञात करें:

27	12	225
26	13	169
30	21	?
26	12	196

- Ans
- 1. 81
 - 2. 64
 - 3. 100
 - 4. 121

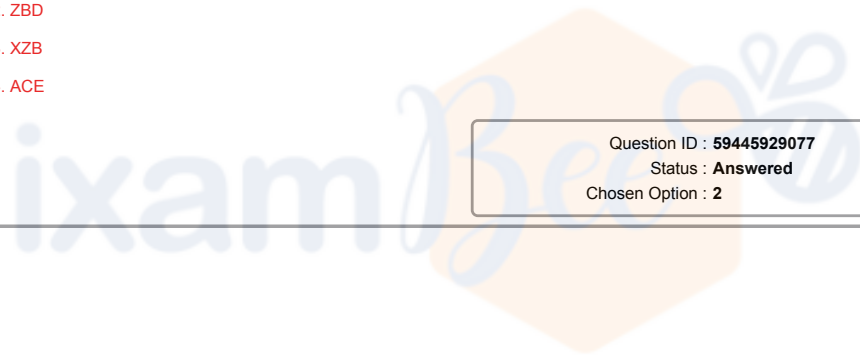
Question ID : 59445929072
Status : Answered
Chosen Option : 1

Q.17 निम्नलिखित अक्षर श्रृंखला में लुप्त पद ज्ञात करें।

ACE, JLN, RTV, ____

- Ans
- 1. YAC
 - 2. ZBD
 - 3. XZB
 - 4. ACE

Question ID : 59445929077
Status : Answered
Chosen Option : 2



Prepare 50% Faster



+91-9205524028

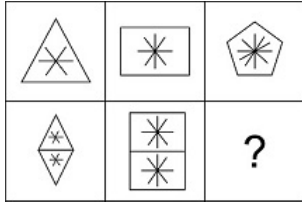
ixamBee™

Prepare 50% Faster




ixamBee.com

Q.18 नीचे दिए गए मैट्रिक्स को पूरा करने के लिए उत्तर आकृतियों में से लुप्त आकृति की पहचान करें।

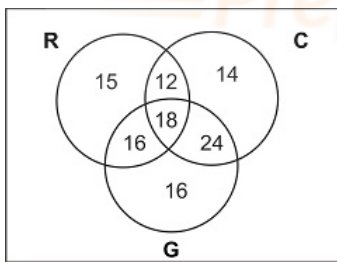


Ans



Question ID : 59445929070
Status : Answered
Chosen Option : 2

Q.19 दिए गए वेन आरेख में, "समूह R" उन लोगों का निरूपित करता है जिन्होंने "रूस" का दौरा किया है, "समूह C" उन लोगों का निरूपित करता है जिन्होंने "चीन" का दौरा किया है और "समूह G" उन लोगों का निरूपित करता है जिन्होंने "जापान" का दौरा किया है। आरेख में दी गई संख्या उस विशेष श्रेणी के व्यक्तियों की संख्या को दर्शाता है। यदि कम से कम दो देशों का दौरा कर चुके कुल लोगों की कुल संख्या में से 60% महिलाएँ हैं, तो उनमें से कितने पुरुष हैं?



Ans

✗ 1. 32

✓ 2. 28

✗ 3. 42

✗ 4. 24

Question ID : 59445929069
Status : Answered
Chosen Option : 1



Q.20 25 ग्राहक एक सुपरमार्केट के बाहर एक कतार में खड़े हैं। कतार में खड़े एक ग्राहक, राहुल को बाएं छोर की ओर 5 स्थानों तक स्थानांतरित किया गया और 6 नए ग्राहक बाएं छोर से जुड़े, फिर वह बाएं छोर से 11वें स्थान पर आ गया। उसकी दाएं छोर से पहले की स्थिति क्या थी?

- Ans
- 1. 14वीं
 - 2. 16वीं
 - 3. 17वीं
 - 4. 15वीं

Question ID : 59445929066
Status : Answered
Chosen Option : 2

Section : English

Q.1 Fill in the blank with the appropriate word.

The museum is showcasing _____ exhibit of the writer's early works.

- Ans
- 1. a perspective
 - 2. an erective
 - 3. an extrospective
 - 4. a retrospective

Question ID : 59445929086
Status : Answered
Chosen Option : 1

Q.2 Some parts of a sentence have been jumbled up, and labelled P, Q, R and S. Select the option that gives the correct sequence in which these parts can be rearranged to form a meaningful and grammatically correct sentence.

The Government reforms imposed by

P. series of major social, political, legal and

Q. the Great Reforms by historians, were a

R. governmental reforms in the

S. Tsar Alexander II of Russia, often called

Russian Empire carried out in the 1860s.

- Ans
- 1. PSQR
 - 2. RSQP
 - 3. SQPR
 - 4. SRQP

Question ID : 59445929090
Status : Answered
Chosen Option : 1

Q.3 Select the most appropriate meaning of the given idiom.

"Might and main"

- Ans
- 1. To keep quiet, To say nothing
 - 2. With all enthusiasm
 - 3. Approximately, almost, somewhat, to a certain degree
 - 4. Nonsense or meaningless speech

Question ID : 59445929100
Status : Answered
Chosen Option : 1



Q.4 Some parts of a sentence have been jumbled up, and labelled P, Q, R and S. Select the option that gives the correct sequence in which these parts can be rearranged to form a meaningful and grammatically correct sentence.

For it was but a pool

P. of hopes and nothing more,

Q. his words did not

R. action and efforts

S. coincide with his

which were needed.

- Ans
- 1. RPQS
 - 2. PQSR
 - 3. SQPR
 - 4. PSQR

Question ID : 59445929091
Status : Answered
Chosen Option : 2

Q.5 Select the word that is opposite in meaning (ANTONYM) to the word given below.

Ameliorate

- Ans
- 1. Relieve
 - 2. Retrieve
 - 3. Startle
 - 4. Worsen

Question ID : 59445929096
Status : Answered
Chosen Option : 1

Q.6 The sentence below has been divided into three parts. Select the part of the sentence that has an error. If the sentence has no error, select the option 'No Error'.

- Ans
- 1. finish, the home team finally came
 - 2. out on top and won the game.
 - 3. No error
 - 4. In what turned out to be thrilling

Question ID : 59445929081
Status : Answered
Chosen Option : 2

Q.7 Select the word segment that substitutes (replaces) the bracketed word segment correctly and completes the sentence meaningfully. Select the option 'no correction required' if the sentence is correct as given.

(Everyone carefully and methodically were trying to) solve the problem given by the boot camp instructor.

- Ans
- 1. Everyone were carefully and methodically trying to
 - 2. Everyone was carefully and methodically trying to
 - 3. No correction required
 - 4. Everyone had carefully and methodically trying to

Question ID : 59445929084
Status : Answered
Chosen Option : 1



Q.8 Select the word which means the same as the group of given words.

A notice or announcement in a public medium promoting a product, service, or event or publicizing a job vacancy.

- Ans
- 1. Amazement
 - 2. Adjustment
 - 3. Advertisement
 - 4. Payment

Question ID : 59445929095
Status : Answered
Chosen Option : 3

Q.9 Given below are four sentences which are jumbled. Pick the option that gives their correct order.

- A. The truth of the matter is that everyone is so unique that all comparison is utterly wrong - so it is best to be your own self.
- B. It's not your fault because you have been brought up and educated in such a way that you are constantly comparing yourself with others.
- C. For example, someone or other is taller than you, more beautiful, more intelligent or more virtuous and you are always in a state of inferiority and suffering.
- D. These days many of you suffer from an inferiority complex in some way or other, for the simple reason that you go on comparing.

- Ans
- 1. ADBC
 - 2. DABC
 - 3. DBCA
 - 4. ABDC

Question ID : 59445929092
Status : Answered
Chosen Option : 4

Q.10 Select the most appropriate 'one word' for the expression given below.

A powerful whirlpool in the sea or a river.

- Ans
- 1. Maelstrom
 - 2. Cruciform
 - 3. Iodoform
 - 4. Vasiform

Question ID : 59445929099
Status : Answered
Chosen Option : 2

Q.11 The sentence below has been divided into three parts. Select the part of the sentence that has an error. If the sentence has no error, select the option 'No Error'.

- Ans
- 1. necessary measures to contain the spread of the virus.
 - 2. The assembly was clearly divided
 - 3. No error
 - 4. in there opinion in the matters of taking

Question ID : 59445929082
Status : Answered
Chosen Option : 1

Q.12 Fill in the blank with the appropriate word.

The man was charged with _____ after murdering the king.

- Ans
- 1. homicide
 - 2. regicide
 - 3. genocide
 - 4. matricide

Question ID : 59445929088
Status : Answered
Chosen Option : 3



Q.13 Select the word segment that substitutes (replaces) the bracketed word segment correctly and completes the sentence meaningfully. Select the option 'no correction required' if the sentence is correct as given.

This newly arisen (evidence could have proved) to be the final nail in the coffin for the accused.

- Ans
- 1. evidence has proof
 - 2. No correction required
 - 3. evidence could prove
 - 4. evidence could have been proved

Question ID : 59445929085
Status : Not Answered
Chosen Option : --

Q.14 Four words are given, out of which only one word is spelt correctly. Choose the word with the correct spelling.

- Ans
- 1. Diadictic
 - 2. Didaict
 - 3. Didactic
 - 4. Didiactic

Question ID : 59445929097
Status : Answered
Chosen Option : 2

Q.15 Identify the segment in the sentence which contains a grammatical error.

I knew that Aparna was speaking the truth and decided to stand besides her during the trial.

- Ans
- 1. stand besides her
 - 2. was speaking
 - 3. I knew
 - 4. decided to

Question ID : 59445929083
Status : Answered
Chosen Option : 2

Q.16 Select the most appropriate synonym of the given word.

Aggressive

- Ans
- 1. Atmospheric
 - 2. Hostile
 - 3. Distinct
 - 4. Vaporous

Question ID : 59445929093
Status : Answered
Chosen Option : 1

Q.17 Select the most appropriate option to substitute the underlined segment in the given sentence. In case no substitution is needed, select 'No substitution required'.

I would wait for you at the Metro station had I known that you would surely come.

- Ans
- 1. will be waiting
 - 2. No substitution required
 - 3. shall wait
 - 4. would have waited

Question ID : 59445929087
Status : Answered
Chosen Option : 1



Q.18 Fill in the blank with the appropriate word.

A _____ tree losses its leaves in autumn and grows new ones in spring.

- Ans
- 1. residuous
 - 2. deciduous
 - 3. assiduous
 - 4. dividuous

Question ID : 59445929089

Status : Answered

Chosen Option : 3

Q.19 Select the most appropriate meaning of the given idiom.

"Go down like a lead balloon"

- Ans
- 1. To gamble everything you have
 - 2. To be received badly by an audience
 - 3. To get away from, to escape
 - 4. To be ready

Question ID : 59445929098

Status : Answered

Chosen Option : 1

Q.20 Out of all the alternatives given, select the word which closely fits the given idiom/phrase.

Don't count your chickens before they hatch

- Ans
- 1. To describe exactly what is causing a situation or problem.
 - 2. Don't count on something good happening until it's happened.
 - 3. Do something without having planned beforehand.
 - 4. Good things come after bad things.

Question ID : 59445929094

Status : Answered

Chosen Option : 2

Prepare 50% Faster



+91-9205524028

ixamBee™

Prepare 50% Faster



ixamBee.com

पिछले वर्षों के प्रश्न पत्र

टियर - I

IB ACIO Gr-II

All the Best



+91-9205524028

